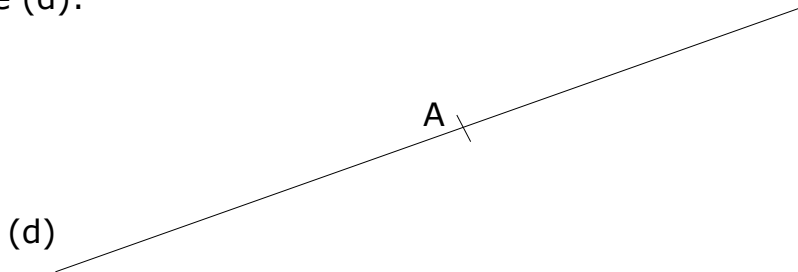
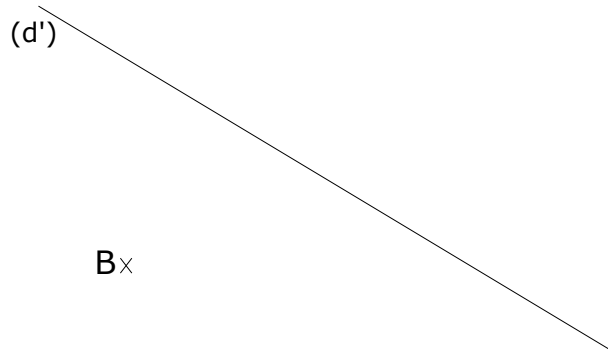


6°- ATELIER 1
DROITES PERPENDICULAIRES ET PARALLÈLES
NIVEAU 1


Exercice 1: Construire la droite passant par le point A et perpendiculaire à la droite (d):



Exercice 2: Construire la droite passant par le point B et perpendiculaire à la droite (d'):



Exercice 3: Construire la droite passant par le point M et parallèle à la droite (Δ):



Exercice 4: Construire la droite passant par le point N et parallèle à la droite (Δ'):

