

Grand angle : proposition de solutions

1^{ère} solution : Géométrie et trigonométrie dans l'espace

- $(BD) \perp (AC)$ et $(DH) \perp (AC)$: (AC) est orthogonale à deux droites sécantes du plan (BDH) donc (AC) est orthogonale au plan (BDH) .

Or I , centre du carré $ABCD$, est le milieu de $[BD]$ et de $[AC]$.

Donc I appartient au plan (BDH) et à la droite (AC) .

Par conséquent le plan (BDH) est le plan médiateur du segment $[AC]$.

Comme M est un point de la diagonale $[BH]$, M appartient au plan (BDH) et M est équidistant des points A et C . **Donc le triangle AMC est isocèle en M**

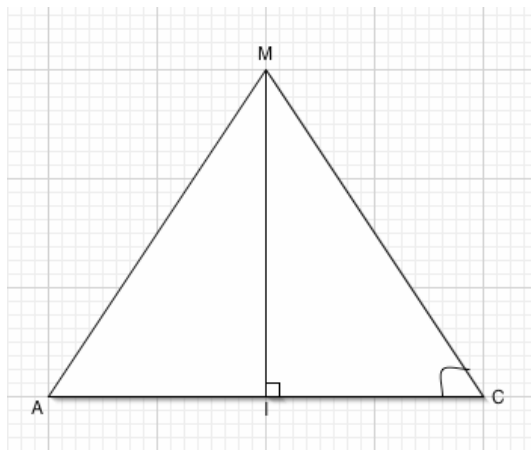
- Par conséquent $\widehat{MCA} = \frac{\pi}{2} - \frac{\widehat{AMC}}{2}$

\widehat{AMC} est maximum si et seulement si \widehat{MCA} est minimum.

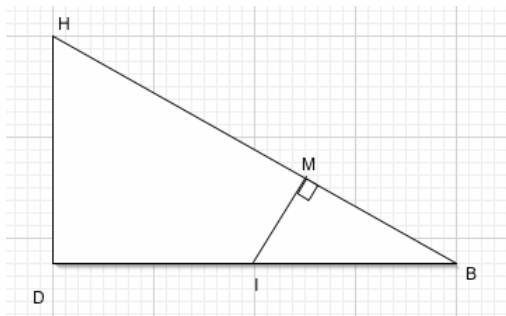
Or $\widehat{MCA} \in \left] 0; \frac{\pi}{2} \right[$ donc \widehat{MCA} est minimum si et seulement si $\tan \widehat{MCA}$ est minimum car la fonction tangente est strictement croissante sur $\left] 0; \frac{\pi}{2} \right[$.

Or, dans le triangle IMC rectangle en I , $\tan \widehat{MCA} = \frac{IM}{IC}$.

Comme $IC = \frac{1}{2} AC$, IC est une longueur constante



$\tan \widehat{MCA}$ est minimum si et seulement si IM est minimale.



IM est minimale $\Leftrightarrow M$ est le projeté orthogonal de I sur $[BH]$

- Calcul de \widehat{AMC}

BDH et BIM sont deux triangles semblables car ils ont deux angles égaux

Donc leurs côtés sont proportionnels et on obtient : $\frac{BI}{BH} = \frac{IM}{DH}$

Or $[BD]$ est la diagonale d'un carré de côté a donc $BD = a\sqrt{2}$ et $BI = \frac{a\sqrt{2}}{2}$

Comme $DH = a$ d'après le théorème de Pythagore dans le triangle BDH on a : $BH = a\sqrt{3}$

$$\text{Donc } IM = \frac{BI \times DH}{BH} = \frac{\frac{a\sqrt{2}}{2} \times a}{a\sqrt{3}} = a \frac{\sqrt{2}}{2\sqrt{3}} \text{ et } \tan \widehat{MCA} = \frac{\frac{a\sqrt{2}}{2}}{\frac{a\sqrt{3}}{2}} = \frac{1}{\sqrt{3}}.$$

Par conséquent $\widehat{MCA} = \frac{\pi}{6} = 30^\circ$ et $\widehat{AMC} = \pi - 2 \times \frac{\pi}{6} = \frac{2\pi}{3} = 120^\circ$.

2^{ème} solution : Géométrie analytique et produit scalaire dans l'espace

Dans le repère $(B; \overline{BA}, \overline{BC}, \overline{BF})$

$A(1;0;0)$; $B(0;0;0)$; $C(0;1;0)$; $D(1;1;0)$; $E(1;0;1)$; $F(0;0;1)$ et $H(1;1;1)$

Or M appartient au segment [BH]. Il existe donc un réel $k \in [0;1]$ tel que $\overline{BM} = k\overline{BH}$.

D'où les coordonnées de M : $M(k;k;k)$

$$\overline{MA} \cdot \overline{MC} = MA \times MC \times \cos \widehat{AMC} \text{ donc } \cos \widehat{AMC} = \frac{\overline{MA} \cdot \overline{MC}}{MA \times MC}$$

Or, $\overline{AM}(k-1;k;k)$ et $\overline{CM}(k;k-1;k)$. on en déduit que :

$$\overline{MA} \cdot \overline{MC} = \overline{AM} \cdot \overline{CM} = k(k-1) + k(k-1) + k^2 = 3k^2 - 2k$$

$$\cos \widehat{AMC} = \frac{3k^2 - 2k}{\sqrt{((k-1)^2 + k^2 + k^2)} \sqrt{(k^2 + (k-1)^2 + k^2)}} = \frac{3k^2 - 2k}{3k^2 - 2k + 1}$$

$$\text{On pose pour } k \in [0;1] : f(k) = \frac{3k^2 - 2k}{3k^2 - 2k + 1}$$

\widehat{AMC} est maximum si et seulement si $\cos \widehat{AMC}$ est minimum car la fonction cosinus est décroissante sur $[0; \pi]$. On étudie donc les variations de la fonction f sur $[0; 1]$

f est dérivable en tant que fonction rationnelle définie sur $[0; 1]$ et $f'(k) = \frac{6k-2}{(3k^2 - 2k + 1)^2}$.

k	0	$\frac{1}{3}$	1
$f(k)$	0	$-\frac{1}{2}$	$\frac{1}{2}$

Donc f est minimum pour $k = \frac{1}{3}$ et $\cos \widehat{AMC} = -\frac{1}{2}$.

Comme \widehat{AMC} est compris entre 0 et π alors $\widehat{AMC} = \frac{2\pi}{3} = 120^\circ$

3^{ème} solution : Géométrie et trigonométrie dans l'espace

Comme le triangle AMC est isocèle en M et I est le milieu de $[AC]$,

\widehat{AMC} est maximum si et seulement si \widehat{AMI} est maximum.

Or $\widehat{AMI} \in \left] 0; \frac{\pi}{2} \right[$ et la fonction sinus est strictement croissante sur $\left] 0; \frac{\pi}{2} \right[$ donc

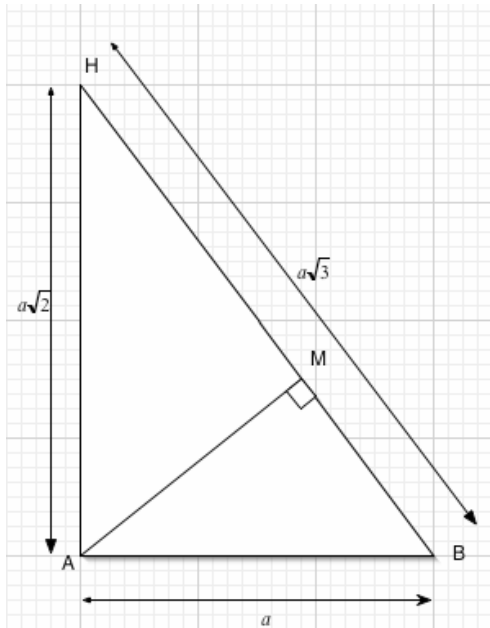
\widehat{AMI} est maximum si et seulement si $\sin \widehat{AMI}$ est maximum.

De plus $\sin \widehat{AMI} = \frac{AI}{AM}$ et comme AI est constant, $AI = \frac{AC}{2} = \frac{a\sqrt{2}}{2}$;

$\sin \widehat{AMI}$ est maximum si et seulement si AM est minimum

si et seulement si M est le projeté orthogonal de A sur $[BH]$

(puisque M décrit le segment $[BH]$).



$$\text{Aire de } ABH = \frac{AM \times BH}{2} = \frac{a\sqrt{2} \times a}{2} = \frac{a^2\sqrt{2}}{2}$$

$$\text{donc } AM = a \frac{\sqrt{2}}{\sqrt{3}}$$

$$\text{De plus, } \sin \widehat{AMI} = \frac{AI}{AM} = \frac{\frac{a\sqrt{2}}{2}}{a \frac{\sqrt{2}}{\sqrt{3}}} = \frac{\sqrt{3}}{2}$$

$$\text{Comme } \widehat{AMI} \in \left] 0; \frac{\pi}{2} \right[, \widehat{AMI} = \frac{\pi}{3}$$

$$\text{et } \widehat{AMC} = \frac{2\pi}{3} = 120^\circ$$