


## Utiliser les pistes et bandes cyclables

### Exercice 1

Dans cette situation, quel est le danger pour le cycliste ?


- Ne pas être vu par les automobilistes.
- Gêner les automobilistes.
- Aucun car il est à sa place.



Que devrait il faire ?

- Allumer ses lumières.
- Serrer plus à droite.
- Continuer à rouler de cette manière.

### Exercice 2



Dans cette situation le cycliste:

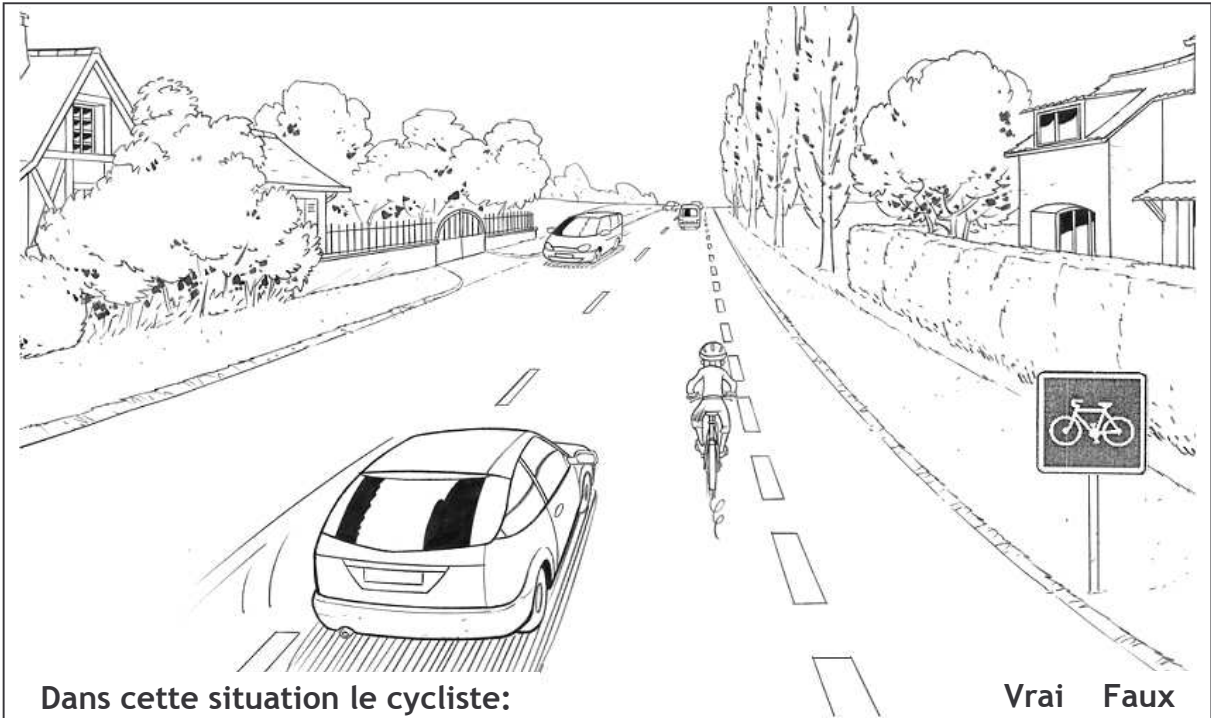
- ♦ Peut continuer à circuler sur la chaussée.
- ♦ Doit rouler sur la piste cyclable.
- ♦ Sera plus en sécurité sur la piste cyclable.
- ♦ Peut rouler sur la piste cyclable ou sur la chaussée.

Vrai Faux

- |                          |                          |
|--------------------------|--------------------------|
| <input type="checkbox"/> | <input type="checkbox"/> |
| <input type="checkbox"/> | <input type="checkbox"/> |
| <input type="checkbox"/> | <input type="checkbox"/> |
| <input type="checkbox"/> | <input type="checkbox"/> |

## Utiliser les pistes et bandes cyclables

### Exercice 3



Dans cette situation le cycliste:

- ◆ Est en sécurité car il roule bien à droite.
- ◆ Risque de gêner les véhicules qui arrivent derrière lui.
- ◆ Peut continuer à rouler à l'endroit où il se trouve.
- ◆ Serait plus en sécurité s'il roulait sur la bande cyclable.

Vrai Faux

<input type="checkbox"/>	<input type="checkbox"/>
<input type="checkbox"/>	<input type="checkbox"/>
<input type="checkbox"/>	<input type="checkbox"/>
<input type="checkbox"/>	<input type="checkbox"/>

## Utiliser les pistes et bandes cyclables - Correction

### Exercice 1

Dans cette situation, quel est le danger pour le cycliste ?

- Ne pas être vu par les automobilistes.
- Gêner les automobilistes.
- Aucun car il est à sa place.

Que devrait il faire ?

- Allumer ses lumières.
- Serrer plus à droite.
- Continuer à rouler de cette manière.

Dans cette situation, le cycliste roule sur une piste cyclable, c'est-à-dire une chaussée à part entière séparée de celle où circule les autres véhicules. Il n'y a donc pas de danger particulier et le cycliste peut continuer à y circuler ainsi.

### Exercice 2

Dans cette situation le cycliste:

- ♦ Peut continuer à circuler sur la chaussée.
- ♦ Doit rouler sur la piste cyclable.
- ♦ Sera plus en sécurité sur la piste cyclable.
- ♦ Peut rouler sur la piste cyclable ou sur la chaussée.

Vrai Faux

- |                                     |                                     |
|-------------------------------------|-------------------------------------|
| <input checked="" type="checkbox"/> | <input type="checkbox"/>            |
| <input type="checkbox"/>            | <input checked="" type="checkbox"/> |
| <input checked="" type="checkbox"/> | <input type="checkbox"/>            |
| <input checked="" type="checkbox"/> | <input type="checkbox"/>            |

Le panneau présent dans cette situation est le C113 (carré à fond bleu avec le pictogramme représentant une bicyclette) qui signale la présence d'une "piste ou bande cyclable conseillée et réservée aux cycles à 2 ou 3 roues. ...". Il n'oblige donc pas le cycliste à emprunter la piste cyclable.

Néanmoins dans tous les cas il est plus sûr pour les cyclistes d'utiliser les voies qui leur sont réservées.

Un cycliste est obligé d'emprunter une bande ou une piste cyclable si le panneau rencontré est le B22a :



## Utiliser les pistes et bandes cyclables - Correction

### Exercice 3

Dans cette situation le cycliste:

- ◆ Est en sécurité car il roule bien à droite.
- ◆ Risque de gêner les véhicules qui arrivent derrière lui.
- ◆ Peut continuer à rouler à l'endroit où il se trouve.
- ◆ Serait plus en sécurité s'il roulait sur la bande cyclable.

Vrai    Faux

<input type="checkbox"/>	<input checked="" type="checkbox"/>
<input checked="" type="checkbox"/>	<input type="checkbox"/>
<input checked="" type="checkbox"/>	<input type="checkbox"/>
<input checked="" type="checkbox"/>	<input type="checkbox"/>

**Faux** : Même s'il roule bien à droite, le cycliste qui circule sur la chaussée n'est pas en sécurité.

**Vrai** : Circulant sur la chaussée à une vitesse relativement faible, il gêne les autres usagers.

**Vrai** : Le panneau de droite n'oblige pas le cycliste à rouler sur la bande cyclable. (Pour de plus amples informations sur ce panneau, se référer au commentaire de l'exercice 2)

**Vrai** : Sur la bande cyclable, le cycliste est plus loin des autres usagers et de ce fait, il est plus en sécurité.