


Allande a. Amaia

Chasse rugby danse
basque
Problème de maths ..
allande veut deux ballons
de rugby amaïa veut deux
paires de chaussures de
danse un ballon coute 30€
et une paire de chaussures
vaut 20€. En tout combien
paieront leurs parents?

Clément et Vincent

Le football


Mateo batou

Ddddddddd
Foot
Ru 

Kattin

Lucie fait 2km pour aller à
la danse. Combien de
kilomètres fera-t-elle au
retour ?

Prodlorme

Lous a fait 40 aldome et a
vendu 12 aldome . Condin
dlome resste tile?

Matéo berthoreau

Les bouler

Allande iñaki

Rugby

Katti

Chéraute

Maialen et Julie

Arc-en-ciel
Julie a préparé un cocktail
de 2L. Elle a 25 invités
Combien de quantité aura
chaque invité?

Probleme de maths

José a 456 euros Gerard
lui donne 3476 €.
Commbien José a d'
argent?



Vinvin cléclé

Fortnite c'est tropppppppp
bien
Et le football aussi bien sur


Joana oian

Math

Taïna.Camille

Natation.yoga
Leire a 3 bonbons .
Charlotte lui en donne
156.Combien Leire a-t-elle
de bonbons?


Tim ib







Oihan Panpi.

Probleme de
mathématique:987x6?

Maila et Lilou

Lili a 10 bonbons. Elle veut
en donner à ses 10 amies
mais elle n'en pas assez.
Combien lui faut-il de
bonbons pour ses amies ?

Maila lilou

Argia

Probleme de math



Justine et sylia

L eau-de-vie

Oiana et Joana

Ioana a 124 bonbons.
Joana en veut la moitié.
Combien Oiana et Joana
en ont-elles chacune ?

Vinclém

Chirtophe achete 33 paire
de chaussure a 37 €
combien d'euro payera t'il

Iban timothee

Le rugby c'est la vie 

Clara nina**Oiana**